

LES REGIONS NATURELLES

Voyons si tu as retenu ce que nous ont écrit Éric et Olivier.
 Trouve la bonne réponse à chacune de ces questions.

Sur quelle distance le territoire belge longe la mer du Nord ?

- A. 77 kilomètres.
- B. 47 kilomètres.
- C. 67 kilomètres.

Quels sont les deux pays frontaliers de la côte belge ?



- A. La Hollande et la France.
- B. L'Allemagne et la France.
- C. Les Pays-Bas et la France.

Combien y a-t-il de marées en 24 heures ?

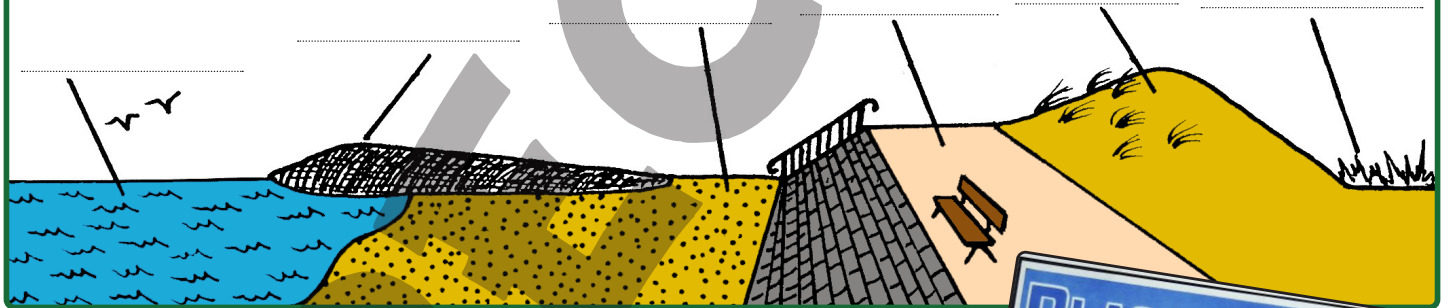
- A. Une marée.
- B. Deux marées.
- C. Trois marées.

Quelle peut être la largeur de la plage à marée basse ?

- A. 100 mètres.
- B. 300 mètres.
- C. Un demi-kilomètre.



Ecris chaque élément qui se situe sur ce dessin de la côte belge.



Chaque paysage correspond à une région de chez nous.
 Retrouve chacune de ces régions parmi la liste ci-dessous:

Le Condroz - La Campine - L'Ardenne - Les Polders

Ces terres sont totalement plates et très fertiles. Elles furent asséchées et récupérées sur la mer:

Cette région naturelle est recouverte d'étangs, de marécages, de prairies et de landes. Son sol est très pauvre:

Son paysage alterne entre les champs de cultures et les massifs de feuillus. Elle s'étend sur la vallée de la Meuse et de l'Ourthe:

De grandes forêts d'épicéas s'étirent dans des vallées profondes ainsi que sur des plateaux:

