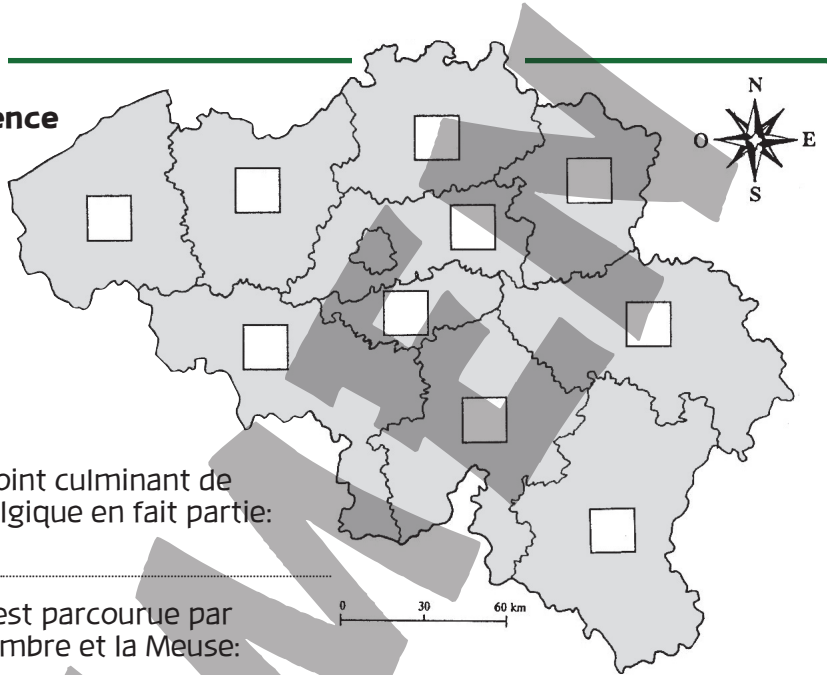


LES PROVINCES

Le jeu des provinces

Chacune des informations fait référence à une province. Retrouve le nom de chaque province et place son numéro au bon endroit sur la carte.



1. Elle possède une frontière avec la France et le Luxembourg:

.....

2. Elle est la plus petite province de Belgique:

.....

3. Elle possède 67 kilomètres de côte maritime:

.....

4. La ville de Gand en est le chef-lieu:

.....

5. Le point culminant de la Belgique en fait partie:

.....

6. Elle est parcourue par la Sambre et la Meuse:

.....

7. Elle entoure la ville de Bruxelles:

.....

8. Un grand port y est installé sur l'Escaut:

.....


9. La Meuse la sépare des Pays-Bas:

.....

10. On y trouve les villes de Charleroi et de Mons:


.....

Chaque province de Belgique possède son chef-lieu



Voici les armoiries de la province d'Anvers. Son chef-lieu est:

.....



Voici les armoiries de la province du Hainaut. Son chef-lieu est:

.....

Voici les armoiries de la province de Luxembourg. Son chef-lieu est:

.....



Voici les armoiries de la province de Flandre orientale. Son chef-lieu est:

.....



Statue du Marsupilami à Charleroi.